

# Absolute und relative Bezüge in EXCEL

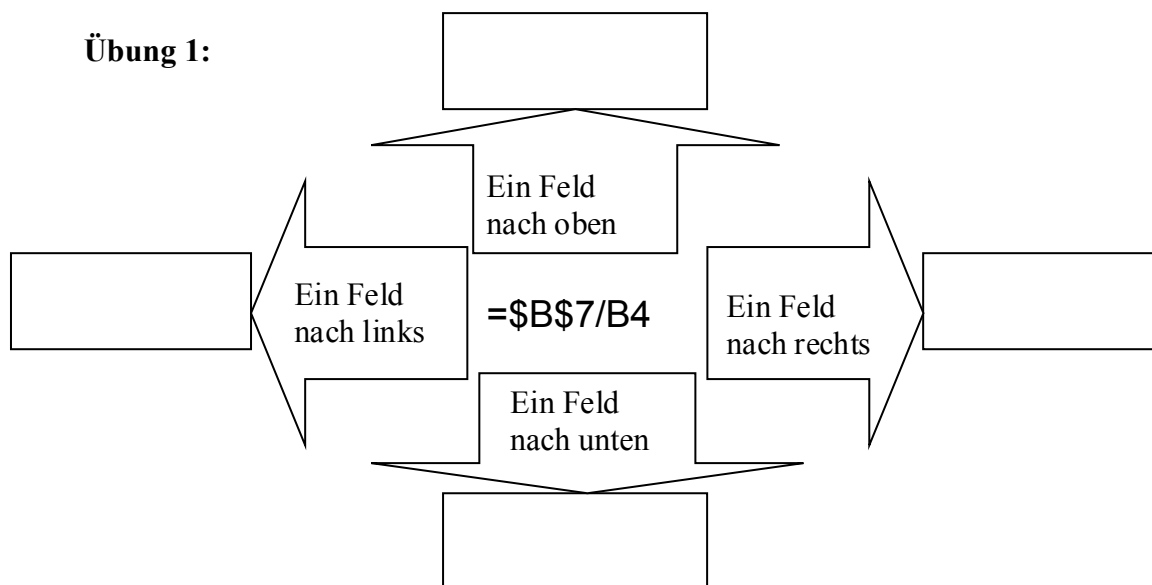
## Aufgaben:

Schreibe in die Zellen A3 bis C8 beliebige Zahlen. zum Beispiel:

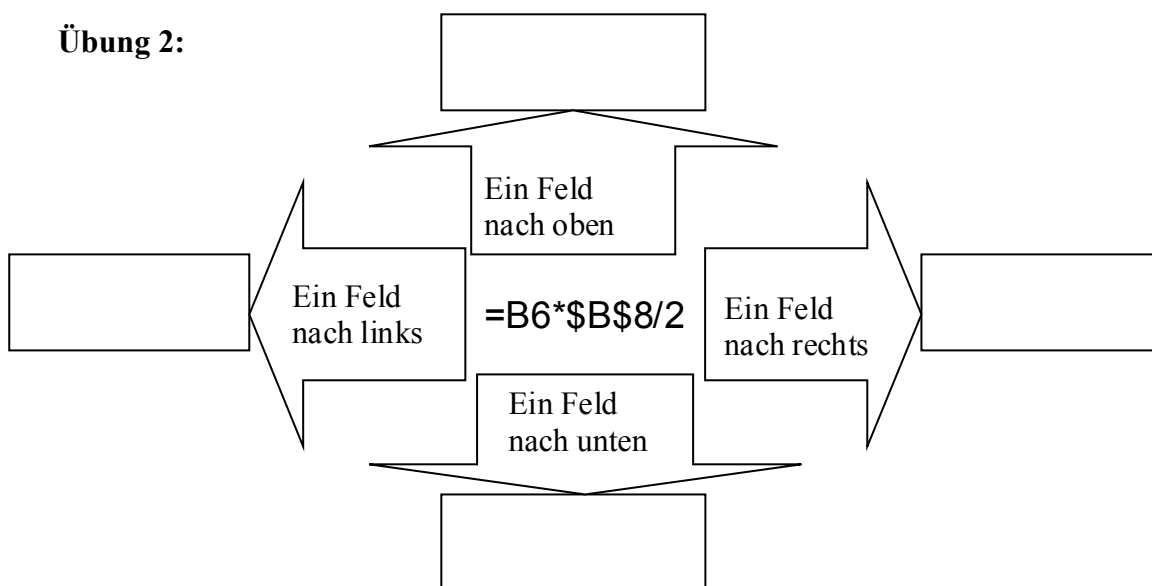
	<b>A</b>	<b>B</b>	<b>C</b>
<b>3</b>	1	2	3
<b>4</b>	5	10	15
<b>5</b>	100	200	300
<b>6</b>	50	60	70
<b>7</b>	0	-80	-160
<b>8</b>	-50	-220	-390

Schreibe dann in eine beliebige Zellen die jeweilige Berechnungsformel.  
 Kopiere diese Formel dann nach oben, unten, nach links und nach rechts.  
 Wie wirken sich die Kopiervorgänge auf die Formeln aus? Trage die Formeln in die  
 leeren Kästchen ein.

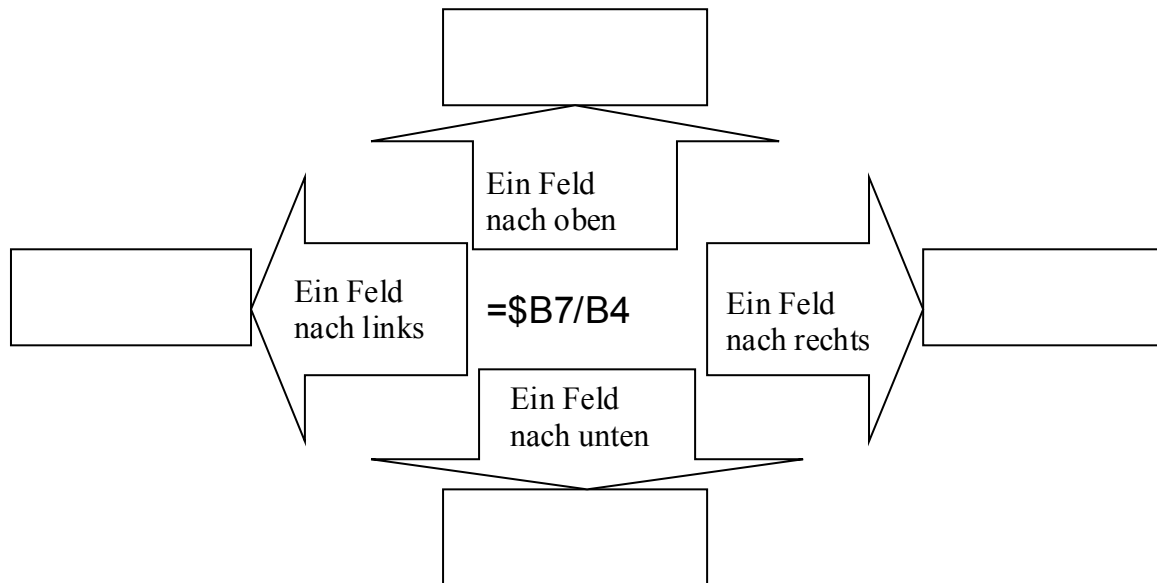
### Übung 1:



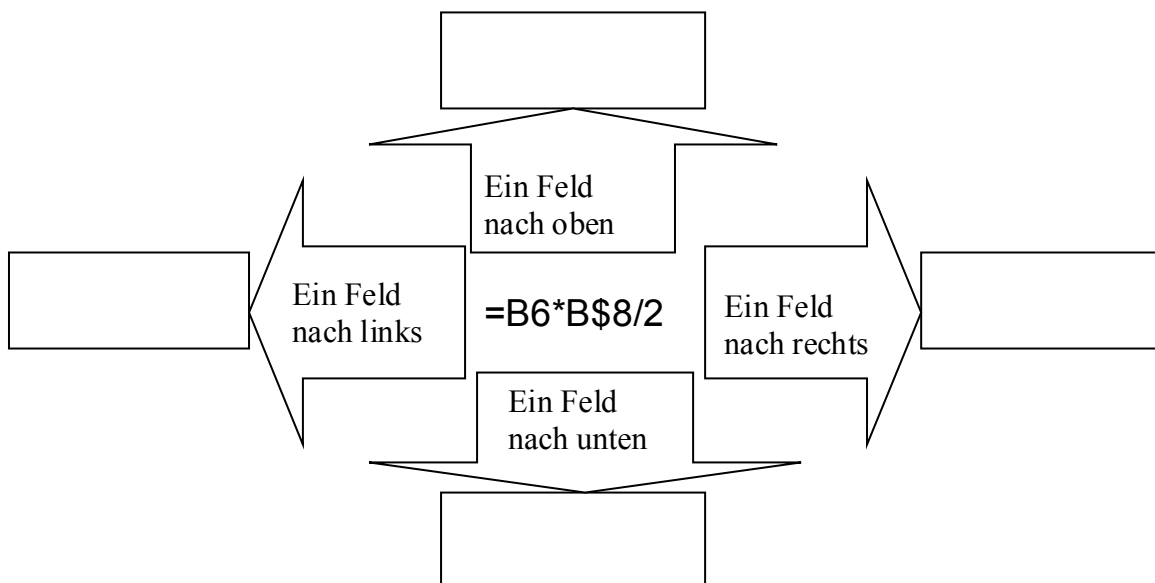
### Übung 2:



## Übung 3:



## Übung 4:



**Kannst Du die entsprechenden Regeln ableiten?**

**D.h. was passiert, wenn vor dem Buchstaben bzw. vor der Zahl eines Zellbezuges ein '\$' steht bzw. wenn dort kein '\$' steht.**

**Regel:**